

Диагностическая тематическая работа № 1
по подготовке к ОГЭ
по ГЕОГРАФИИ
по теме «Географическое пространство России»
(программа «География России»)

Инструкция по выполнению работы

На выполнение работы по географии отводится 90 минут. Работа включает в себя 25 заданий.

Ответ к заданиям 1–6, 8–13, 15–17, 20–23 записывается в виде одной цифры, которая соответствует номеру правильного ответа. Эту цифру запишите в поле ответа в тексте работы. Ответы к заданиям 7, 14, 18, 19, 24, 25 запишите в работе в отведённом для этого месте.

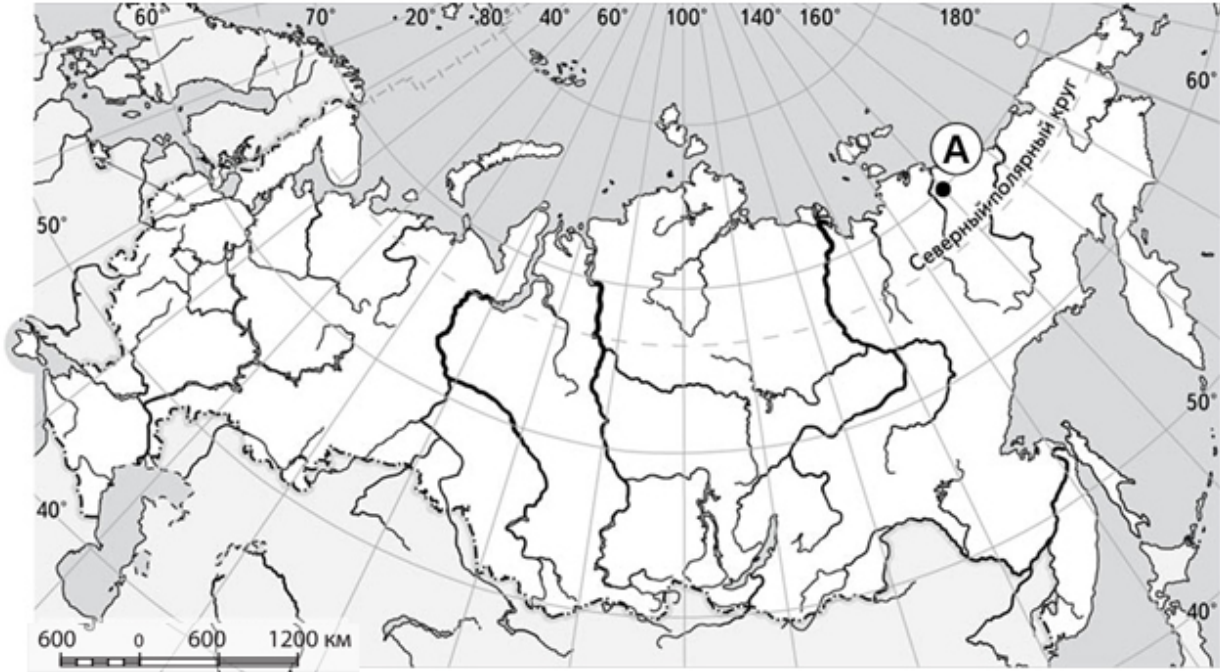
В случае записи неверного ответа зачеркните его и запишите рядом новый.

При выполнении работы разрешается использовать непрограммируемые калькуляторы. Использование географических атласов не допускается. При выполнении заданий можно пользоваться черновиком.

Советуем выполнять задания в том порядке, в котором они даны. В целях экономии времени пропускайте задание, которое не удаётся выполнить сразу, и переходите к следующему. Если после выполнения всей работы у Вас останется время, то Вы сможете вернуться к пропущенным заданиям. Постарайтесь выполнить как можно больше заданий.

Желаем успеха!

1 Какие координаты имеет точка, обозначенная на карте России буквой А?

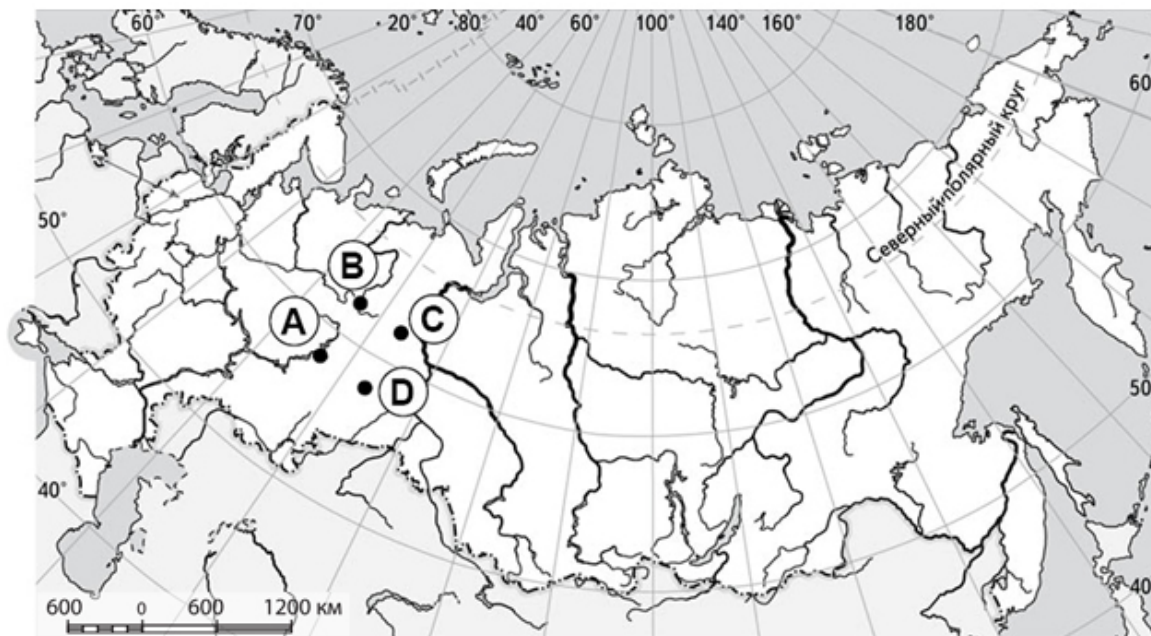


- 1) 70° с.ш. 150° з.д.
- 2) 70° с.ш. 150° в.д.
- 3) 150° с.ш. 70° з.д.
- 4) 150° с.ш. 70° в.д.

Ответ:

2

Какая точка, обозначенная на карте России, имеет географические координаты 63° с.ш. 63° в.д.?



1) А

2) В

3) С

4) D

Ответ:

3

Кто из перечисленных русских путешественников в XVIII веке возглавил Первую Камчатскую экспедицию?

1) Витус Беринг

2) Иван Крузенштерн

3) Семён Дежнёв

4) Семён Челюскин

Ответ:

4

Кто из перечисленных первопроходцев основал первое русское поселение на побережье Охотского моря в XVII веке?

1) Владимир Атласов

2) Иван Москвитин

3) Ерофей Хабаров

4) Семён Дежнёв

Ответ:

5

Какое из перечисленных высказываний о географическом положении России является верным?

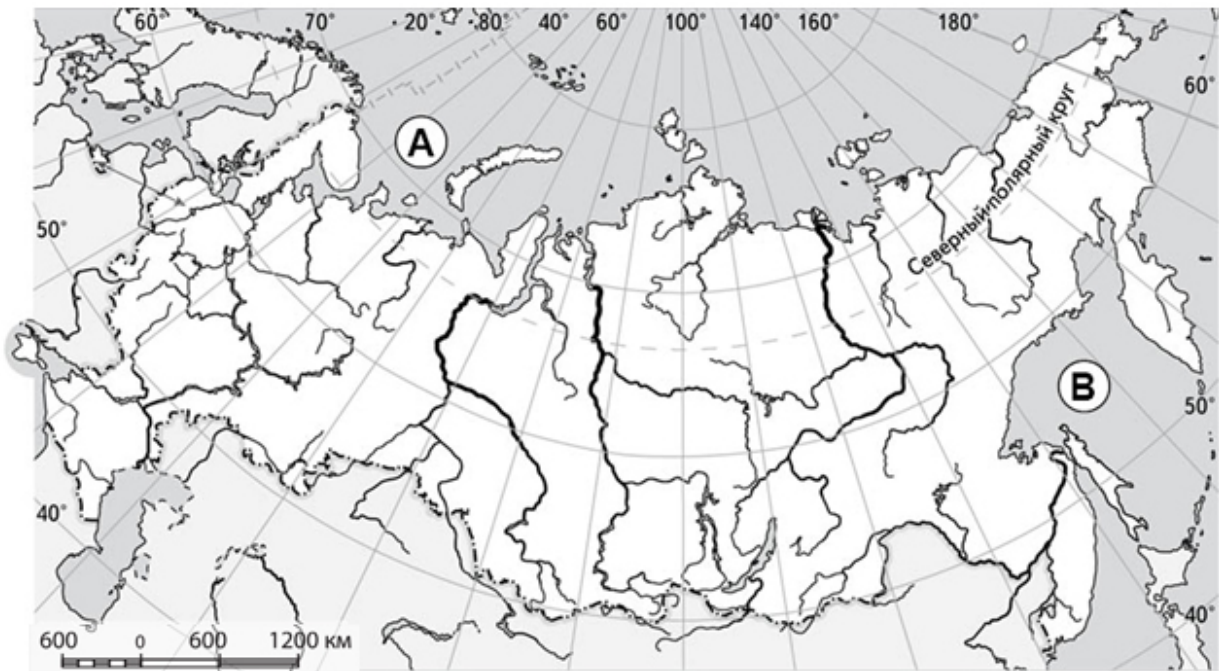
- А) Вся территория России полностью лежит в восточном полушарии.
- Б) Вся территория России полностью лежит в северном полушарии.

- 1) верно только А
- 2) верно только Б
- 3) верны оба высказывания
- 4) оба высказывания неверны

Ответ:

6

Какие окраинные моря на карте России обозначены буквами А и В?



- 1) Баренцево, Японское
- 2) Баренцево, Охотское
- 3) Берингово, Японское
- 4) Берингово, Охотское

Ответ:

- 7** Установите соответствие между морями и океанами, частями которых они являются: к каждому элементу первого столбца подберите соответствующий элемент из второго столбца.

МОРЯ	ОКЕАНЫ
А) Азовское Б) Восточно-Сибирское В) Японское	1) Атлантический 2) Индийский 3) Тихий 4) Северный Ледовитый

Запишите в таблицу выбранные цифры под соответствующими буквами.

Ответ:

А	Б	В

- 8** В какое из перечисленных морей впадает река Обь?

- 1) Балтийское море
- 2) Карское море
- 3) Охотское море
- 4) Чёрное море

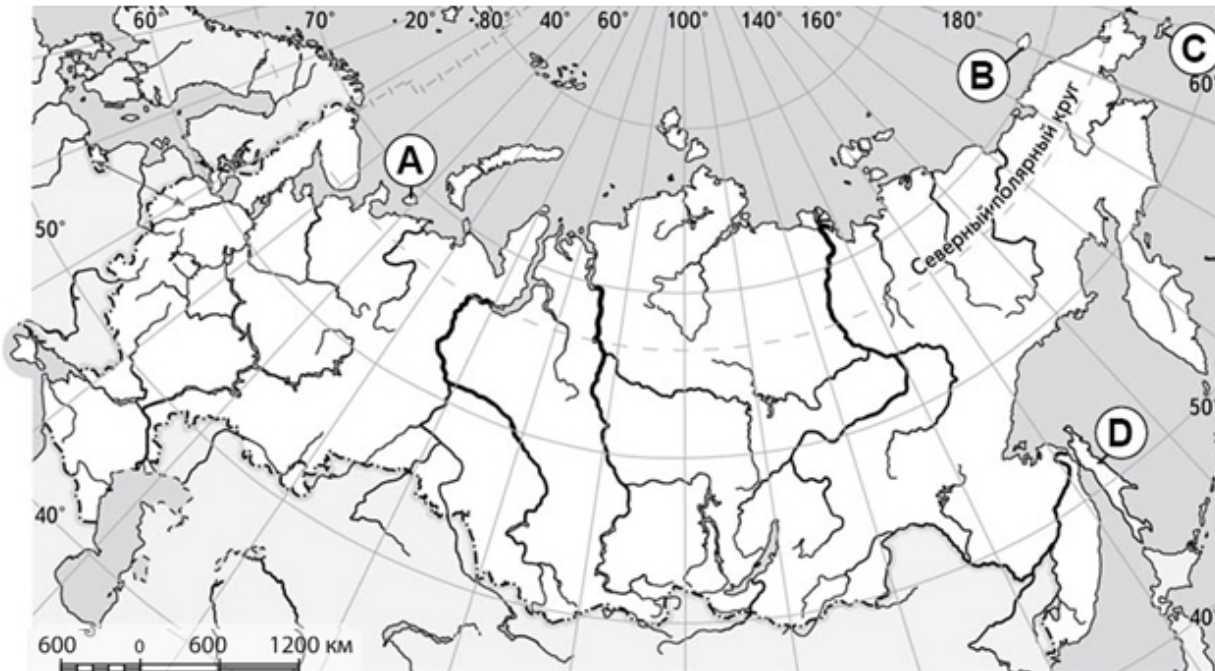
Ответ:

- 9** Какой из перечисленных архипелагов **не относится** к территории России?

- 1) Алеутские острова
- 2) Курильские острова
- 3) Новосибирские острова
- 4) острова Анжу

Ответ:

10 Какой буквой на карте России обозначен остров Колгуев?



- 1) A 2) B 3) C 4) D

Ответ:

11 Какой из перечисленных городов-портов расположен на побережье Баренцева моря?

- 1) Владивосток
- 2) Калининград
- 3) Мурманск
- 4) Санкт-Петербург

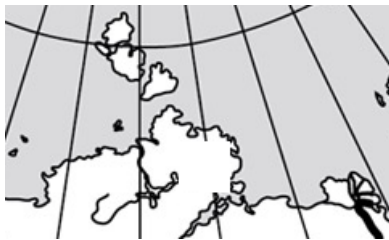
Ответ:

12 На каком из представленных фрагментов контурной карты изображен полуостров Камчатка?

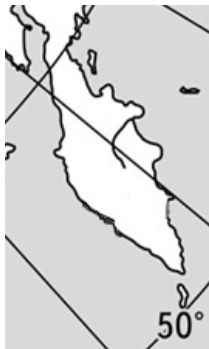
1)



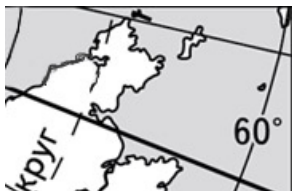
2)



3)



4)



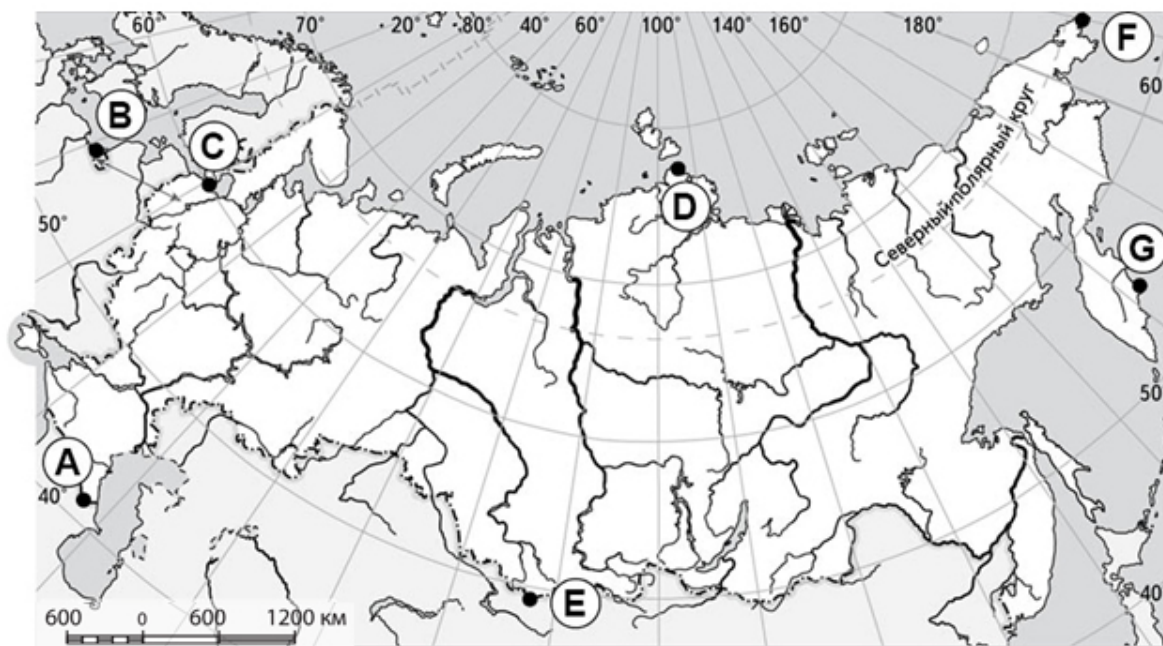
Ответ:

13 Где расположена крайняя южная точка России?

- 1) в западной части Алтая
- 2) на востоке Кавказских гор
- 3) на юге Уральских гор
- 4) на юге Среднерусской возвышенности

Ответ:

- 14** Используя карту, определите, где находится крайняя западная материковая точка России, и укажите её географические координаты. Запишите в ответе букву, которая соответствует крайней западной материковой точке России, и значения её географических координат.



Ответ:

Точка	Широта	Долгота

- 15** Какое из представленных описаний Чёрного моря является верным?

- 1) Это море можно назвать океаническим заливом, глубоко вдающимся в сушу. Северные и западные берега моря высокие и скалистые, южные и восточные – пологие и низкие.
- 2) Это внутреннее море, соединённое с океаном чередой проливов. Древние арабы называли его Русским морем.
- 3) Это мелководное море расположилось между полуостровом и материком. Древние славяне называли это море Варяжским.
- 4) Это самое большое и самое глубокое море среди морей России. В море есть острова, но их немного.

Ответ:

16 Какой из перечисленных географических объектов находится в зоне сейсмической активности?

- 1) архипелаг Северная Земля
- 2) полуостров Таймыр
- 3) остров Вайгач
- 4) остров Сахалин

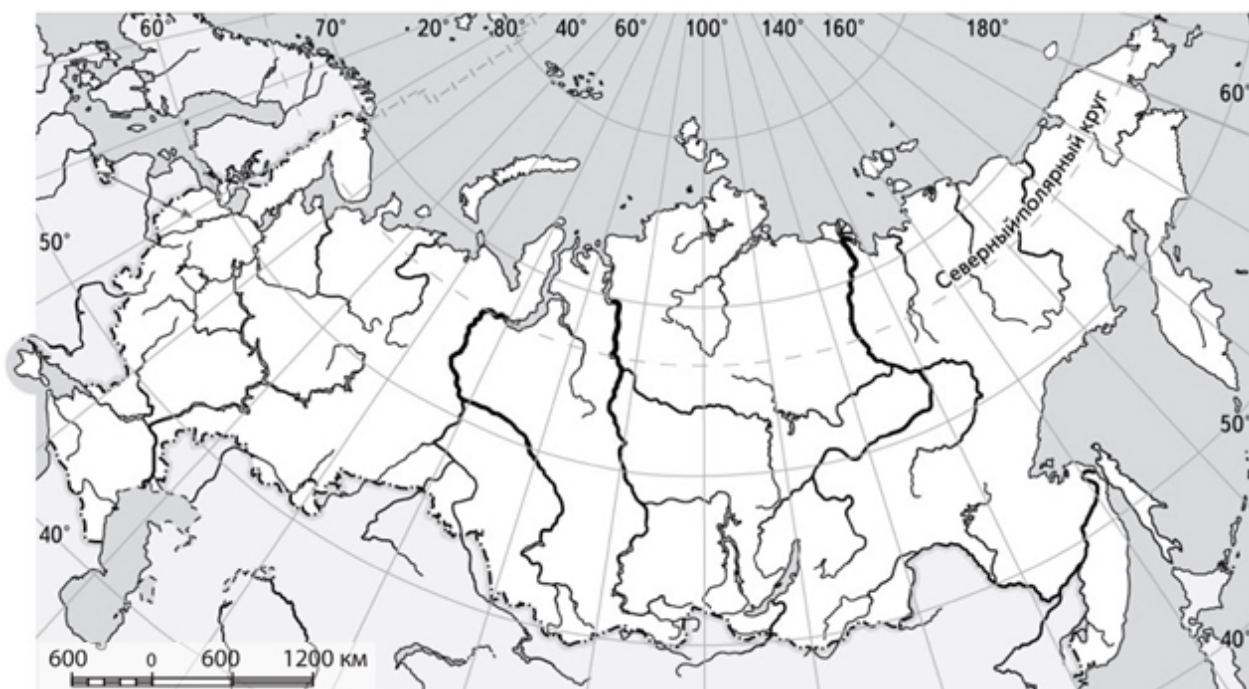
Ответ:

17 На какой из перечисленных территорий 22 декабря в полдень по местному времени Солнце находится выше всего над горизонтом?

- 1) архипелаг Северная Земля
- 2) архипелаг Новая Земля
- 3) остров Сахалин
- 4) Чукотский полуостров

Ответ:

18 Используя карту, определите протяжённость материковой части территории России с севера на юг вдоль меридиана 90° в.д.



Ответ: _____ км.

19 Как называется государство, обозначенное на карте буквой А? Запишите его название.



Ответ: _____

20 Какое из перечисленных государств **не граничит** с Россией?

- 1) Китай
- 2) Молдавия
- 3) Польша
- 4) Финляндия

Ответ:

21

С какими государствами, обозначенными буквами А и В на карте, Россия имеет сухопутную границу?



- 1) Латвия, Китай
- 2) Латвия, Монголия
- 3) Литва, Китай
- 4) Литва, Монголия

Ответ:

22

С каким государством граница России проходит по Берингову проливу?

- 1) Китай
- 2) КНДР
- 3) Норвегия
- 4) США

Ответ:

23 С каким из европейских государств Россия имеет наименее протяжённую сухопутную границу?

- 1) Белоруссия
- 2) Норвегия
- 3) Финляндия
- 4) Эстония

Ответ:

24 Установите соответствие между путешественниками и сделанными ими географическими открытиями: к каждому элементу первого столбца подберите соответствующий элемент из второго столбца.

ПУТЕШЕСТВЕННИКИ

- А) Владимир Арсеньев
- Б) Ермак Тимофеевич
- В) Степан Крашенинников

**ГЕОГРАФИЧЕСКИЕ ОТКРЫТИЯ,
ДОСТИЖЕНИЯ**

- 1) первым исследовал Камчатку как учёный-натуралист
- 2) исследовал Южное Приморье и район Сихотэ-Алиня
- 3) исследовал территорию Оймькона и Колымского нагорья
- 4) присоединил Сибирь к Российскому государству

Запишите в строку ответов выбранные цифры под соответствующими буквами.

Ответ:	А	Б	В

25 Решите задачу на определение поясного времени.
Самолёт вылетел из Москвы в Калининград в 7 ч утра по московскому времени. Разница поясного времени между Москвой и Калининградом составляет 1 ч. Продолжительность полёта – 2 ч. Какое время будут показывать часы Калининградского аэропорта в момент прибытия московского рейса?

Ответ: _____ ч.

Ответы к заданиям

За выполнение каждого из заданий 1–13, 15–25 выставляется 1 балл при условии, что записаны только соответствующие эталону цифра, число, последовательность цифр, слово.

№ задания	Ответ
1	2
2	3
3	1
4	2
5	2
6	2
7	143
8	2
9	1
10	1
11	3
12	3
13	2
15	2
16	4
17	3
18	2664 (верным является любое значение от 2500 до 3000 км)
19	Казахстан
20	2
21	4
22	4
23	2
24	241
25	8

Ответ к заданию 14

Полное правильное выполнение задания 14 оценивается 2 баллами. Правильное указание только широты или только долготы оценивается 1 баллом.

Точка	Широта	Долгота
В	54° с.ш.; 55° с.ш.	20° в.д.

Таблица перевода баллов в отметки по пятибалльной шкале

Отметка по пятибалльной шкале	«2»	«3»	«4»	«5»
	0–8	9–15	16–21	22–26